

ФИО Брикин Александр

Интенсивная образовательная программа (профильная смена)

«География. Старт в науку. 2025»

ИТОГОВАЯ ПРОВЕРОЧНАЯ РАБОТА ДЛЯ 7-9 КЛАССОВ

1. Самый большой по площади вулканический остров в мире.

А) Калимантан; Б) Исландия;

В) Хоккайдо; Г) Пасхи.

2. Страна находится в двух частях света, омывается водами четырех морей (Черное, Мраморное, Эгейское, Средиземное).

А) Турция; Б) Греция;

В) Египет; Г) Болгария.

3. Коралловые острова распространены в теплых водах, температура которых не может быть ниже этого показателя.

А) 8 °С; Б) 30 °С;

В) 10 °С; Г) 20 °С.

4. Остров Гренландия является автономной территорией в составе этого королевства.

А) Шведского; Б) Датского;

В) Нидерландского; Г) Британского.

5. В этой стране можно увидеть гигантские каменные статуи – моаи.

А) Мексика; Б) Аргентина;

В) Чили; Г) США.

6. Здесь находятся наиболее известные месторождения вулканических туфов на нашей планете.

А) Франция; Б) Армения;

В) Казахстан; Г) Чехия.

7. Пролив между Северным и Южным островами Новой Зеландии.

А) Кука; Б) Бассов;

В) Торресов; Г) Макасарский.

8. Нелетающие бескилевые птицы, которые обитают только в Новой Зеландии.

А) Корелла; Б) Эму;

В) Киви; Г) Какаду.

9. Под каким номером на карте отмечен остров Пасхи, или как его называют коренные жители – Рапа-Нуи.



А) 1; Б) 2; В) 3; Г) 4.

10. Самый большой остров в России, его площадь — 76 600 км², омывается двумя морями.

А) Врангеля; Б) Новая Земля;

В) Сахалин; Г) Колгуев.

11. Самый большой остров по площади Японского архипелага.

А) Хоккайдо; Б) Хонсю,

В) Кюсю; Г) Сикоку.

12. Его называют самым большим речным островом мира, несмотря на то, что восточный берег омывается Атлантическим океаном.

А) Маражо; Б) Кадьяк;

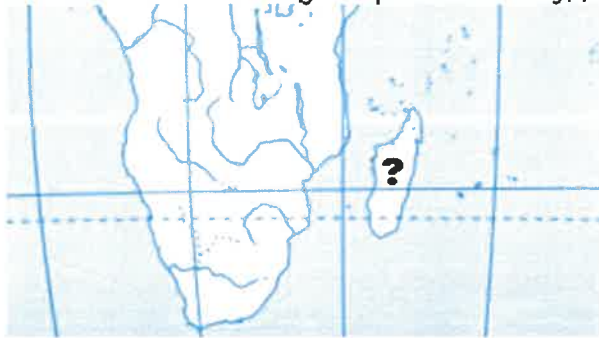
В) Фрейзер, Г) Барбадос.

13. Северный морской лев, млекопитающее семейства ушастых тюленей, занесён в Красную книгу Российской Федерации

А) Сивуч; Б) Геренук;

В) Фосса; Г) Индри.



14. Назовите столицу островного государства, изображенного на картинке.



Ответ: Дили

15. Выполните комплексное задание посвященное острову, который входит в пятерку самых больших по площади.

А) Назовите животных эндемиков изображенных на картинках.

| | | |
|--|---|--|
|  |  |  |
| Ответ: <u>орангутан</u> | Ответ: <u>носач</u> | Ответ: <u>мушкетер</u> |

Б) Назовите остров, где обитают представленные выше животные-эндемики.

Ответ: Борнео

В) Назовите архипелаг в состав которого входит остров.

Ответ: _____

Г) Назовите три страны, которые делят между собой территорию острова.

*Примечание. Это единственный в мире морской остров, разделённый между тремя государствами.

Ответ: Индонезия, Малайзия, Папуа - Новая Гвинея

Д) Это название носил остров до середины XIX века.

Ответ: Борнео

16. На контурной карте мира отметить следующие страны и их столицы:

Бразилия;
Австралия;
Китай;
Индия;
Мексика;
Аргентина;

США;
Канада;
Япония;
Исландия;
Мадагаскар;
Саудовская Аравия;

Новая Зеландия;
Испания;
Франция;
Турция.